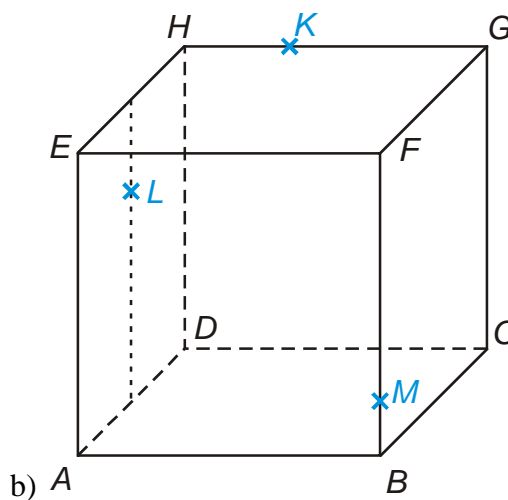
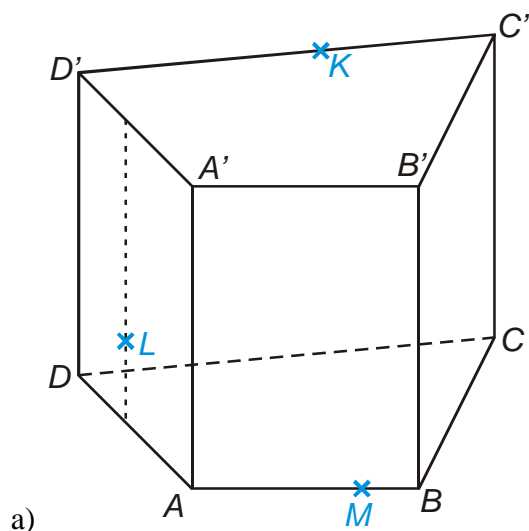


5.1.13 Řezy těles rovinou V

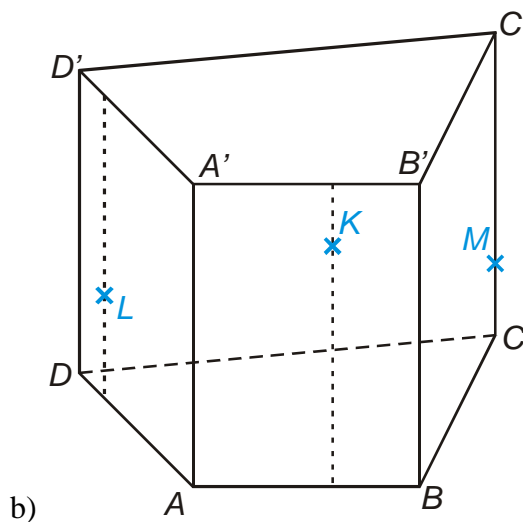
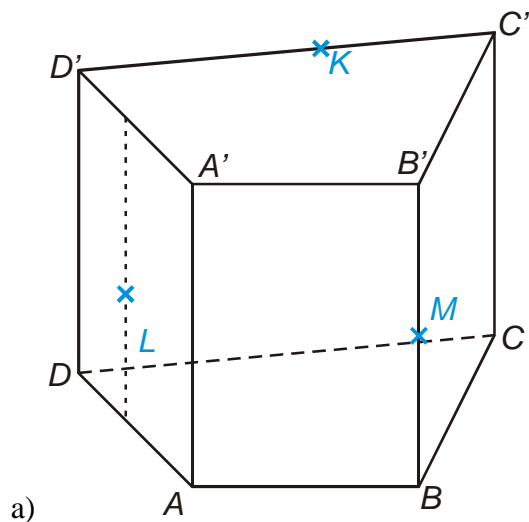
Př. 1: Je dána standardní krychle $ABCDEFGH$. Sestroj řez této krychle rovinou $S_{BC}S_{AE}S_{GH}$.

Př. 2: Je dána standardní krychle $ABCDEFGH$. Sestroj řez této krychle rovinou $S_{AD}S_{CG}S_{EF}$.

Př. 3: Sestroj řezy těles rovinami určenými KLM .



Př. 4: Sestroj řezy těles rovinami určenými KLM .



Př. 5: Petáková:
strana 90/cvičení 7 a) b) d)